

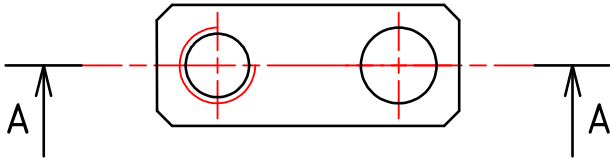
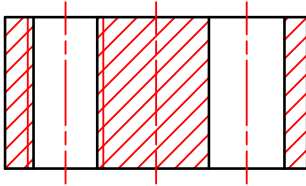
OUTILS & OPERATIONS D'USINAGE

Questions :

- 1°) Identifiez les outils correspondant aux opérations
- 2°) Représentez les outils

Fraisage, perçage, taraudage et alésage du corps sur Centre d'Usinage

A - A

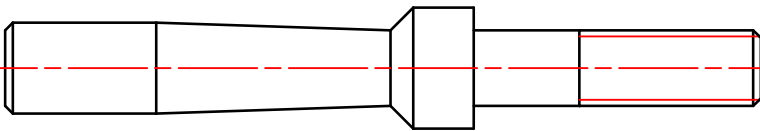


Opérations	Outils
a- Surfaçage	-
b- Pointage des 2 trous	-
c- Perçage \varnothing 4.2	-
d- Perçage \varnothing 4.8	-
e- Alésage \varnothing 5 H7	-
f- Taraudage M5	-

Question :

- 1°) Identifiez les opérations correspondant aux outils
- 2°) Représentez les outils

Dressage, chariotage et filetage sur tour CN



Opérations	Outils
a-	Outil ext à charioter - dresser SCLC
b-	Outil ext à contourner SVJB
c-	Outil à fileter ext